



Приложение №2

Посмотри, как правильно писать цифру 2.
Посчитай, сколько птичек на рисунке.
Обведи цифры в первой строчке.
Допиши цифры во второй и третьей строчках.




2	2	2	2	2	2	2	2	2	2
2	2	2	2	2	2	2	2	2	2
.
~	~	~	~	~	~	~	~	~	~

Придумай задачу про двойку, нарисуй и запиши ее.



Что это за знаки?



Реши примеры:



$1+1=$

$1+0=$

$1-1=$

$2+0=$

$2-1=$

$1-0=$

$2-2=$

$2-0=$

Реши задачи:

Утка морковку в корзинке несла,
Этой покупкой довольна была.
Если морковку еще ей купить,
Сколько их будет?
Ты можешь сложить?

ДВА щенка в футбол играли,
Одного домой позвали.
Он в окно глядит, считает,
Сколько их теперь играет?

Приложение №4

Посмотри, как правильно писать цифру 3.
Посчитай, сколько поросят на рисунке.
Обведи цифры в первой строчке.
Допиши цифры во второй и третьей строчках.



3	3	3	3	3	3	3	3	3	3
3	3	3	3	3	3	3	3	3	3
3	3	3	3	3	3	3	3	3	3

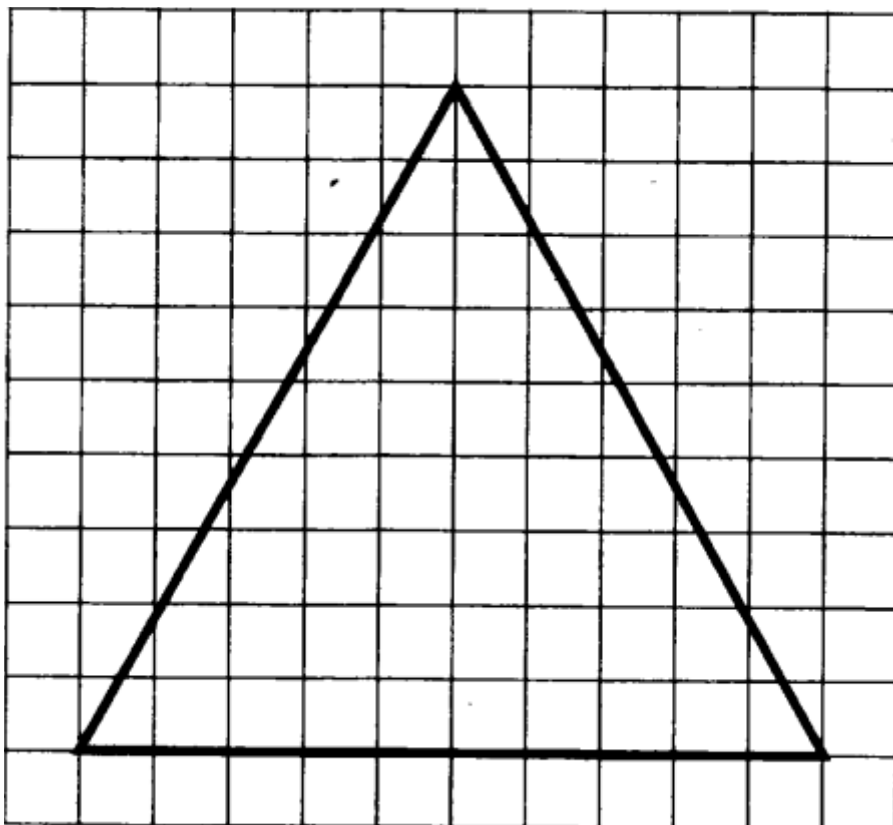
Придумай задачу про цифру три, нарисуй и запиши ее.

Приложение №5

Начерти в тетради такой же треугольник.

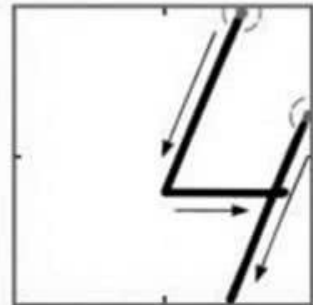
Покажи его стороны и углы.

Подпиши цифрами его вершины.



Приложение №6

Посмотри, как правильно писать цифру 4.
Посчитай, сколько щенят на рисунке.
Обведи цифры в первой строчке.
Допиши цифры во второй и третьей строчках.



4	4	4	4	4	4	4	4	4	4
.
+	+	+	+	+	+	+	+	+	+
.
∟	∟	∟	∟	∟	∟	∟	∟	∟	∟
.


Придумай задачу с цифрой 4, нарисуй, запиши ее.

Приложение №7

На этом чертеже 3 треугольника, найди их.





А вот они покрашены разными цветами.



Вырежи из бумаги два треугольника. В одном проведи линию через вершину, вот так.

Что получится, если разрезать треугольник по этой линии? В другом проведи линию не через вершину. Что получится?

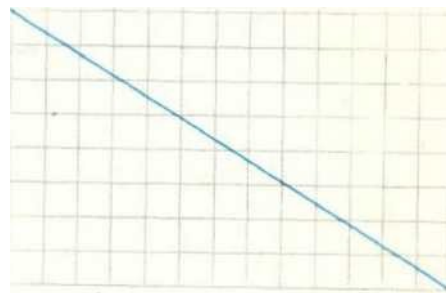


13. Как называется
третий день недели
и третий месяц года!
Как называется
четвертый день недели
и четвертый месяц года!

14. Какие четыре времени года
ты знаешь! Назови.
Какие четыре времени суток
ты знаешь! Назови.

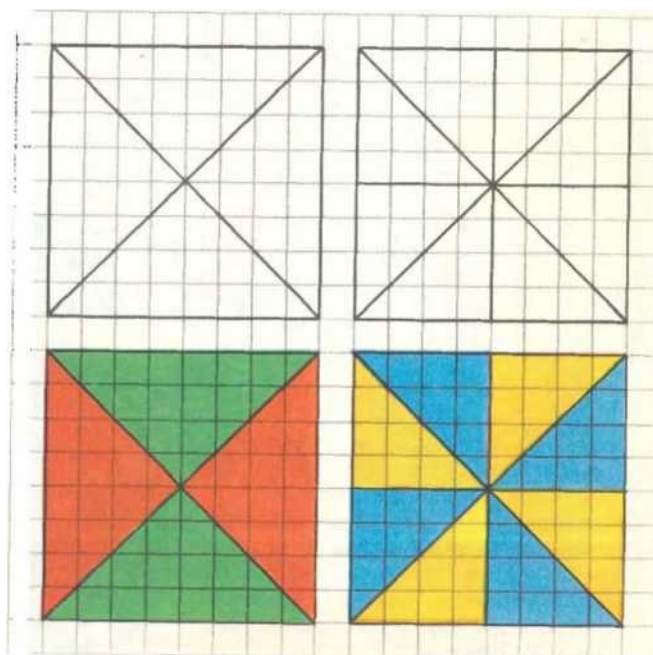
Приложение №8

Вырежи из клетчатой бумаги прямоугольник и проведи в нем линию, вот так.
Теперь разрежь прямоугольник по этой линии. У тебя получились два треугольника.
Наложи их друг на друга и проверь, что они одинаковые.



10. Нарисуй два квадрата и проведи в них линии, вот так.

Теперь раскрась эти фигуры, например, вот так.



Приложение № 9

Реши задачи:


Трамвайный билет стоит три рубля.
В кассу-автомат три рубля можно опустить монетами в любом наборе. Сколько таких монет потребуется!

Из каких еще монет можно набрать три Рубля?

У Маши была одна сестра и два брата.
Подумай, сколько всего детей в семье?
Сколько из них девочек?



Который час показывают часы?



На каких часах стрелки образуют прямой угол?



2. Скажи, сколько получится:

3. Скажи, сколько получится:

$$\begin{aligned} 1 + 2 &= \\ 2 + 1 &= \\ 1 + 3 &= \\ 3 + 1 &= \\ 2 + 2 &= \\ 3 + 0 &= \\ 0 + 3 &= \\ 4 + 0 &= \\ 0 + 4 &= \end{aligned}$$

$$\begin{aligned} 3 - 0 &= \\ 3 - 1 &= \\ 3 - 2 &= \\ 3 - 3 &= \\ 4 - 0 &= \\ 4 - 1 &= \\ 4 - 2 &= \\ 4 - 3 &= \\ 4 - 4 &= \end{aligned}$$